

PROBLEMA

O Método de Heron e Outros Problemas

Yure Carneiro e Samuel Feitosa

Soluções da Edição Anterior

Problemas Universitários

Problema 1. Sejam A_1, A_2, \dots, A_{n+1} subconjuntos não vazios de $\{1, 2, \dots, n\}$. Prove que existem conjuntos de índices disjuntos e não vazios $I, J \subset \{1, 2, \dots, n+1\}$ tais que

$$\bigcup_{k \in I} A_k = \bigcup_{k \in J} A_k.$$

Solução:

Considere a matriz $A = (a_{ij})_{i,j}^{n,n+1}$ (n linhas e $n+1$ colunas) definida da seguinte maneira:

$$a_{ij} = \begin{cases} 1, & \text{se } i \in A_j \\ 0, & \text{se } i \notin A_j \end{cases}.$$

Ou seja, dispomos os conjuntos A_1, \dots, A_{n+1} como vetores colunas $\bar{A}_1, \dots, \bar{A}_{n+1}$ representando as indicadoras da n -upla ordenada $(1, 2, \dots, n)$ em cada um dos conjuntos. Por hipótese, como cada um deles é não vazio, significa que os vetores colunas dessa matriz são não nulos.

Agora, sendo o posto da matriz A no máximo n , então o número de colunas linearmente independentes é no máximo n , de onde segue que, $\bar{A}_1, \dots, \bar{A}_{n+1}$ são linearmente dependentes. De onde segue que, existem números reais $\alpha_1, \alpha_2, \dots, \alpha_{n+1}$, não todos nulos, para os quais

$$\alpha_1 \bar{A}_1 + \dots + \alpha_{n+1} \bar{A}_{n+1} = 0.$$

Como todos esses vetores são não nulos e com entradas 0 ou 1 (não negativas), segue que existem entre

esses escalares, alguns que são positivos ($\alpha_i > 0$) e alguns que são negativos ($\alpha_j < 0$). Considere então I e J os conjuntos destes escalares que são positivos e negativos, respectivamente (são não vazios e disjuntos). Daí,

$$v = \sum_{i \in I} \alpha_i \bar{A}_i = \sum_{j \in J} (-\alpha_j) \bar{A}_j.$$

Essa igualdade entre as duas representações do vetor v acima (que possui entradas não negativas), em termos dos conjuntos A_k significa que, se a entrada ℓ de v é diferente de 0, então $\ell \in A_i, A_j$ para algum $i \in I$ e $j \in J$. Agora, se a entrada ℓ de v é igual a 0, então $\ell \notin A_i, A_j$ para todos $i \in I$ e $j \in J$. Ou seja,

$$\bigcup_{i \in I} A_i = \bigcup_{j \in J} A_j.$$

Problema 2. Dizemos que um grupo $G = (G, *)$ tem raiz se existe um grupo $H = (H, \cdot)$ de tal sorte que G é isomorfo a $H \times H$. Mostre que o grupo $(\mathbb{R}, +)$ possui raiz.

Dica: Tente ver a possível raiz como um subespaço vetorial de \mathbb{R} sobre \mathbb{Q} . Como construir uma base para esse espaço vetorial?

Solução de Rafael A. da Ponte

Suponha que $(\mathbb{R}, +)$ possui uma raiz X via um isomorfismo ϕ . Podemos considerá-la como um subgrupo aditivo de \mathbb{R} identificando X com a imagem por ϕ de $X \times 0$. É simples de ver que X , com as operações usuais, é um subespaço de \mathbb{R} sobre \mathbb{Q} . De fato, dado qualquer natural q e um elemento $x \in X$, existe (a, b) em $X \times X$ tal que $q \cdot (a, b) = (x, 0)$ e, portanto, $b = 0$. Assim, $a \in X$ é tal que $a = x/q$ e daí segue da

estrutura de grupo que X é fechado por produto por escalar racional.

Disso segue que X é raiz de \mathbb{R} , por analogia ao conceito definido no enunciado, também como estrutura de espaço vetorial sobre \mathbb{Q} . Feito isso, note que se B é base de Hamel de X , $B \times \{0\} \cup \{0\} \times B$ é base de $X \times X$ e suas imagens serão uma base de Hamel de \mathbb{R} . Daí, o problema de achar uma raiz de $(\mathbb{R}, +)$ resume-se a, dada uma base de Hamel H de \mathbb{R} , encontramos um subconjunto B contido em H em bijeção com $H \setminus B$.

Para isso, defina o conjunto dos pares (C, f) , C contido em H e $f: C \rightarrow H \setminus C$ injetivas ordenado com $(C, f) \leq (D, g) \Leftrightarrow C \subset D$ e g estende f . Esse conjunto satisfaz as condições do Lema de Zorn, logo tem um elemento maximal (B, h) . Agora, em virtude da maximalidade, $(H \setminus B) \setminus h(B)$ tem, no máximo, um elemento, e em ambos os casos de cardinalidades de $(H \setminus B) \setminus h(B)$, B é um subconjunto como pedimos no parágrafo acima.

Problema 3. *Seja G um conjunto finito de matrizes $n \times n$ de coeficientes reais $\{M_i\}$, $1 \leq i \leq r$, que forma um grupo sobre a multiplicação matricial. Suponha que $\sum_{i=1}^r \text{tr}(M_i) = 0$, onde $\text{tr}(A)$ denota o traço da matriz A . Prove que $\sum_{i=1}^r M_i$ é a matriz nula.*

Solução:

Seja $S = \sum_{i=1}^r M_i$. Para qualquer j , a sequência $M_j M_1, M_j M_2, \dots, M_j M_r$ é uma permutação dos elementos de G . Somando todos eles, obtemos $M_j S = S$. Somando essas expressões de $j = 1$ até r resulta em $S^2 = rS$. Portanto, o polinômio minimal de S divide $x^2 - rx$ e, consequentemente, todo autovalor de S é 0 ou r . Por outro lado, soma dos autovalores, contados com multiplicidade, é $\text{tr}(S) = 0$, então todos os autovalores são iguais a 0. Todo autovalor de $S - rI$ é $-r \neq 0$, logo $S - rI$ é invertível. Portanto, de $S(S - rI) = 0$, obtemos $S = 0$.

Problema 4. *Seja $f(x) = a_1 \sin x + a_2 \sin 2x + \dots + a_n \sin nx$, onde a_1, a_2, \dots, a_n são números reais e n é um inteiro positivo. Dado que $|f(x)| \leq |\sin x|$ para todo o número real x , prove que*

$$|a_1 + 2a_2 + \dots + na_n| \leq 1.$$

Solução de Yan Lima Machado:

Dado o $f(x)$ do enunciado, tem-se que

$$f'(x) = a_1 \cdot \cos(x) + 2 \cdot a_2 \cdot \cos(2x) + \dots + n \cdot a_n \cdot \cos(nx).$$

Daí, nota-se que

$$\begin{aligned} f'(0) &= a_1 \cdot \sin(0) + a_2 \cdot \sin(0) + \dots + a_n \cdot \sin(0) \\ &= 0; \\ f'(0) &= a_1 \cdot \cos(0) + 2 \cdot a_2 \cdot \cos(0) + \dots + n \cdot a_n \cdot \cos(0); \\ &= a_1 + 2 \cdot a_2 + \dots + n \cdot a_n. \end{aligned}$$

Portanto, basta mostrarmos que $|f'(0)| \leq 1$. Pelo enunciado, $|f(x)| \leq |\sin(x)|$, então supondo que $x \neq 0$, tem-se que

$$\left| \frac{f(x)}{x} \right| \leq \left| \frac{\sin(x)}{x} \right|.$$

Daí

$$|f'(0)| = \left| \lim_{x \rightarrow 0} \frac{f(x) - f(0)}{x - 0} \right| \leq \left| \lim_{x \rightarrow 0} \frac{\sin(x)}{x} \right| = 1.$$

Problema 5. *Calcule a integral*

$$\int_0^{\pi/2} \frac{\sin^{25} x}{\cos^{25} x + \sin^{25} x} dx.$$

Solução de Yan Lima Machado:

Denote o valor da integral acima por I . Fazendo a mudança de variável $u = \frac{\pi}{2} - x$, tem-se que

$$\frac{\sin^{25}(x)}{\sin^{25}(x) + \cos^{25}(x)} = \frac{\cos^{25}(u)}{\cos^{25}(u) + \sin^{25}(u)}.$$

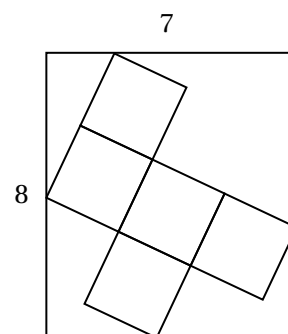
Além do mais, $du = -dx$ para $x = 0$ temos $u = \pi/2$ e para $x = \pi/2$, temos $u = 0$. Daí, obtemos

$$\begin{aligned} \int_0^{\pi/2} \frac{\sin^{25}(x)}{\sin^{25}(x) + \cos^{25}(x)} dx &= \\ - \int_{\pi/2}^0 \frac{\cos^{25}(u)}{\sin^{25}(u) + \cos^{25}(u)} du &= \\ \int_0^{\pi/2} \frac{\cos^{25}(x)}{\sin^{25}(x) + \cos^{25}(x)} dx. \end{aligned}$$

Portanto, $I + I = \int_0^{\pi/2} 1 dx = \pi/2$ e, consequentemente, $I = \frac{\pi}{4}$.

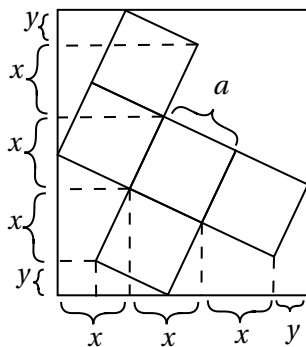
Problemas de Matemática Elementar

Problema 6. *A figura a seguir consiste de 5 quadrados iguais colocados no interior de um retângulo 8cm \times 7cm. Qual a medida do lado desses quadrados?*



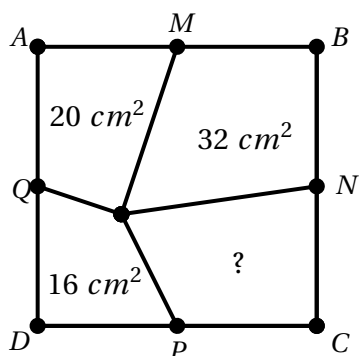
Solução:

Seja a o comprimento do lado do quadrado. Como as inclinações dos lados dos quadrados formam 90° entre si, só existem dois comprimentos possíveis de projeções dos lados dos quadrados sobre os lados dos retângulos: x ou y .



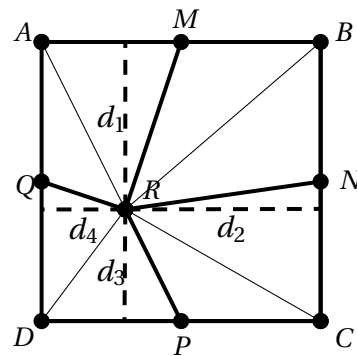
Comparando as medidas dos dois lados dos retângulos com essas projeções, temos $8 = 2x + y + x + y = 3x + 2y$ e $7 = 3x + y$. Resolvendo o sistema resultante, encontramos $x = 2$ e $y = 1$. Portanto, pelo Teorema de Pitágoras, $a = \sqrt{x^2 + y^2} = \sqrt{5} \text{ cm}$.

Problema 7. Na figura a seguir, $ABCD$ é um quadrado e M, N, P e Q são os pontos médios dos seus lados. As áreas de três regiões do seu interior são 20 cm^2 , 32 cm^2 e 16 cm^2 , também como indicado na figura. Qual a área da quarta região?



Solução:

Seja R o ponto central da figura, $2x$ o comprimento de metade de um lado do quadrado e d_1, d_2, d_3 e d_4 as distâncias de R aos lados.



A área do quadrilátero $DPRQ$ é a soma das áreas de dois triângulos de bases de comprimento $2x$ e alturas d_3 e d_4 . Ou seja,

$$A_{DPRQ} = \frac{2x \cdot d_3}{2} + \frac{2x \cdot d_4}{2} = x \cdot (d_3 + d_4).$$

De modo semelhante,

$$A_{AQRM} = x \cdot (d_1 + d_4), A_{BMRN} = x \cdot (d_1 + d_2)$$

$$\text{e } A_{CNRP} = x \cdot (d_2 + d_3).$$

Portanto,

$$\begin{aligned} A_{CNRP} + A_{AQRM} &= A_{BMRN} + A_{DPRQ} \\ A_{CNRP} + 20 &= 32 + 16. \end{aligned}$$

Assim, $A_{CNRP} = 32 + 16 - 20 = 28 \text{ cm}^2$.

Problema 8. Dois inteiros positivos x e y são tais que

$$\frac{2010}{2011} < \frac{x}{y} < \frac{2011}{2012}.$$

Encontre o menor valor possível para a soma $x + y$.

Solução de Yan Lima Machado:

A desigualdade acima pode ser reescrita como:

$$\begin{aligned} \frac{2010}{2011} < \frac{x}{y} < \frac{2011}{2012} &\Leftrightarrow \\ 1 - \frac{1}{2011} < 1 - \frac{t}{y} < 1 - \frac{1}{2012} &\Leftrightarrow \\ 2011 < \frac{y}{t} < 2012. \end{aligned}$$

com $t = y - x \in \mathbb{Z}$. Devemos ter $t \geq 2$, pois para $t = 1$ não existe um inteiro y tal que $2011 < y < 2012$. Da desigualdade $2011 \cdot t < y < 2012 \cdot t$, tem-se que $y \geq 2011 \cdot t + 1$. Daí:

$$\begin{aligned} x + y &= (y - t) + y \\ &= 2y - t \\ &= 2 \cdot (2011 \cdot t + 1) - t \\ &= 4021 \cdot t + 2. \end{aligned}$$

Como $t \geq 2$, tem-se que o menor valor possível para $x + y$ é

$$x + y = 4021 \cdot 2 + 2 = 8042 + 2 = 8044.$$

Um exemplo é $x = 4021$ e $y = 4023$.

Problema 9. Sejam a, b e c reais satisfazendo $a + b + c = 0$ e $a^2 + b^2 + c^2 = 4$. Qual o valor de $(ab)^2 + (bc)^2 + (ca)^2$?

Solução:

Veja que

$$a^2 + b^2 + c^2 + 2(ab + bc + ca) = (a + b + c)^2 = 0.$$

De onde,

$$ab + bc + ca = -2$$

(pois $a^2 + b^2 + c^2 = 4$).

Assim,

$$(ab)^2 + (bc)^2 + (ca)^2 + 2(ab^2c + bc^2a + ca^2b) =$$

$$(ab + bc + ca)^2 = (-2)^2 = 4$$

$$\therefore (ab)^2 + (bc)^2 + (ca)^2 + 2abc(a + b + c) = 4$$

$$\therefore (ab)^2 + (bc)^2 + (ca)^2 = 4.$$

Problema 10. Mostre que

$$\frac{1}{1 + \sqrt{2}} + \frac{1}{\sqrt{3} + \sqrt{4}} + \frac{1}{\sqrt{5} + \sqrt{6}} + \cdots + \frac{1}{\sqrt{99} + \sqrt{100}} > \frac{9}{2}.$$

Solução:

Note que,

$$\begin{aligned} \frac{1}{\sqrt{n} + \sqrt{n+1}} &= \frac{\sqrt{n+1} - \sqrt{n}}{(\sqrt{n+1} + \sqrt{n})(\sqrt{n+1} - \sqrt{n})} \\ &= \frac{\sqrt{n+1} - \sqrt{n}}{n+1 - n} \\ &= \sqrt{n+1} - \sqrt{n}. \end{aligned}$$

Assim,

$$\begin{aligned} \sum_{n=1}^{99} \frac{1}{\sqrt{n} + \sqrt{n+1}} &= \sum_{n=1}^{99} \sqrt{n+1} - \sqrt{n} \\ &= \sqrt{100} - \sqrt{1} = 10 - 1 = 9. \end{aligned}$$

Além disso,

$$\begin{aligned} \frac{1}{1 + \sqrt{2}} + \frac{1}{\sqrt{3} + \sqrt{4}} + \frac{1}{\sqrt{5} + \sqrt{6}} + \cdots + \frac{1}{\sqrt{99} + \sqrt{100}} &= \\ \sum_{k=0}^{49} \frac{1}{\sqrt{2k+1} + \sqrt{2k+2}} &> \sum_{k=0}^{48} \frac{1}{\sqrt{2k+2} + \sqrt{2k+3}} = \end{aligned}$$

e

$$\sum_{k=0}^{49} \frac{1}{\sqrt{2k+1} + \sqrt{2k+2}} + \sum_{k=0}^{48} \frac{1}{\sqrt{2k+2} + \sqrt{2k+3}} =$$

$$\sum_{n=1}^{99} \frac{1}{\sqrt{n} + \sqrt{n+1}} = 9.$$

Portanto,

$$2 \sum_{k=0}^{49} \frac{1}{\sqrt{2k+1} + \sqrt{2k+2}} > 9$$

e

$$\sum_{k=0}^{49} \frac{1}{\sqrt{2k+1} + \sqrt{2k+2}} > \frac{9}{2}.$$

Problema 11. Em uma sequência de inteiros positivos, uma inversão é um par de posições em que o elemento da posição mais a esquerda é maior que o elemento da posição mais a direita. Por exemplo, a sequência 2, 5, 3, 1, 3 tem 5 inversões: entre a primeira e a quarta posição, entre a segunda e todas as demais para a direita e, finalmente, entre a terceira e a quarta. Qual é o maior número possível de inversões em uma sequência de inteiros positivos cuja a soma de seus elementos é 2019?

Solução:

Primeiramente vamos mostrar que qualquer sequência maximizante do número de inversões precisa ser não-crescente. De fato, se existe um par de números consecutivos a e b , com $a < b$, então a troca de posição desses elementos não altera a soma e aumenta o número de inversões em uma unidade. A seguir, mostraremos que qualquer sequência não-crescente que maximiza o número de inversões deve possuir apenas números iguais a 1 e 2. Suponha, por absurdo, que a sequência contém algum número $k > 2$. Troque o último k por um par de elementos: $k-1$ na posição original e 1 na posição final. Claramente essa operação não altera a soma. O 1 final é parte de uma inversão com todo o elemento que era membro de uma inversão com o k original, exceto pelos números 1 a sua direita. O novo $k-1$ é parte de uma inversão com todo elemento que era menor que o k original, incluindo as parcelas 1 a sua direita. Assim, contabilizando a inversão criada entre o novo $k-1$ e o novo 1, essa troca criada aumenta o número de inversões em pelo menos uma unidade. Finalmente, considerando uma sequência qualquer que maximiza o número de inversões e que possui de soma de seus elementos igual a 2019, podemos supor que existem a parcelas iguais a 2 e $2019 - 2a$ parcelas iguais a 1. O

número de inversões é

$$\begin{aligned} a(2019 - 2a) &= 2019a - 2a^2 \\ &= \frac{2019^2}{8} - 2\left(a - \frac{2019}{4}\right)^2. \end{aligned}$$

Para maximizar a expressão anterior, devemos minimizar $|a - 2019/4|$ e isso ocorre para $a = 505$. Portanto, o maior número de inversões é $505 \cdot 1009$.

Problema 12. A soma dos números positivos x_1, x_2, \dots, x_n é igual a $\frac{1}{2}$. Prove que

$$\frac{1-x_1}{1+x_1} \cdot \frac{1-x_2}{1+x_2} \cdots \frac{1-x_n}{1+x_n} \geq \frac{1}{3}.$$

Solução:

Provaremos esse resultado por indução. Vejamos.

Se $n = 1$, temos $x_1 = \frac{1}{2}$ e então $\frac{1-x_1}{1+x_1} = \frac{1/2}{3/2} = \frac{1}{3}$.

Agora, vamos supor que a afirmação é válida para n , e suponhamos que $x_1, x_2, \dots, x_n, x_{n+1}$ são números positivos para os quais $x_1 + \dots + x_n + x_{n+1} = \frac{1}{2}$.

Primeiro vejamos o seguinte: se $0 < a \leq b$ e $c \geq 0$, então $bc \geq ac$ e $(a+c)b = ab+bc \geq ab+ac = (b+c)a$ e portanto, $\frac{a+c}{b+c} \geq \frac{a}{b}$. Aplicando esse fato aos números $a = 1 - (x_n + x_{n+1})$, $b = 1 + (x_n + x_{n+1})$ e $c = x_n x_{n+1}$, segue que

$$\frac{1 - (x_n + x_{n+1}) + x_n x_{n+1}}{1 + (x_n + x_{n+1}) + x_n x_{n+1}} \geq \frac{1 - (x_n + x_{n+1})}{1 + (x_n + x_{n+1})}.$$

Portanto,

$$\frac{1-x_n}{1+x_n} \cdot \frac{1-x_{n+1}}{1+x_{n+1}} \geq \frac{1-(x_n+x_{n+1})}{1+(x_n+x_{n+1})}. \quad (1)$$

Agora, fazendo $y_n = x_n + x_{n+1}$, temos que x_1, \dots, x_{n-1}, y_n são n números positivos cuja soma é igual a $\frac{1}{2}$, e por hipótese de indução vale que,

$$\frac{1-x_1}{1+x_1} \cdot \frac{1-x_2}{1+x_2} \cdots \frac{1-y_n}{1+y_n} \geq \frac{1}{3},$$

isto é,

$$\frac{1-x_1}{1+x_1} \cdot \frac{1-x_2}{1+x_2} \cdots \frac{1-(x_n+x_{n+1})}{1+(x_n+x_{n+1})} \geq \frac{1}{3}. \quad (2)$$

Por (1) e (2), segue que,

$$\frac{1-x_1}{1+x_1} \cdot \frac{1-x_2}{1+x_2} \cdots \frac{1-x_n}{1+x_n} \cdot \frac{1-x_{n+1}}{1+x_{n+1}} \geq \frac{1}{3}$$

e por indução, a afirmação é vale para todo $n \geq 1$, de onde segue o desejado.

Novos Problemas

Problemas Universitários

Problema 13. Mostre que para qualquer primo $p > 17$, o número

$$p^{32} - 1$$

é divisível por 16320.

Problema 14. Sejam c e x_0 números reais positivos fixados. Defina a sequência

$$x_n = \frac{1}{2} \left(x_{n-1} + \frac{c}{x_{n-1}} \right), \text{ para } n \geq 1.$$

Prove que a sequência converge e que o limite é \sqrt{c} .

Problema 15. Calcule o determinante da matriz quadrada de ordem n , $A = (a_{ij})_{i,j}$, definida por

$$a_{ij} = \begin{cases} (-1)^{|i-j|}, & \text{se } i \neq j \\ 2, & \text{se } i = j \end{cases}.$$

Problema 16. Considere uma esfera de raio unitário centrada na origem de um sistemas de coordenadas xyz . Seja C um pentágono regular inscrito na esfera e contido no plano xy . Determine a área da região contida na esfera cuja projeção com respeito à terceira coordenada coincide com a região delimitada por C .

Problema 17. Seja f diferenciável em $x = a$ com $f'(a) \neq 0$. Calcule:

$$\lim_{n \rightarrow \infty} \left[\frac{f(a + 1/n)}{f(a)} \right]^n.$$

Problema 18. Sejam $A, B \in M(n, \mathbb{C})$ e $P \in \mathbb{C}[X]$ um polinômio no-constante tal que $P(0) \neq 0$ e $AB = P(A)$. Prove que a matriz A é invertível e que as matrizes A e B comutam (isto é, que $AB = BA$).

Problemas de Matemática Elementar

Problema 19. O produto dos números reais positivos a_1, a_2, \dots, a_n é igual a 1. Prove, **sem ser por indução**, que

$$(1 + a_1) \cdot (1 + a_2) \cdots (1 + a_n) \geq 2^n.$$

Problema 20. Seja A um subconjunto dos números naturais tal que, entre 100 números naturais consecutivos, existe um elemento de A . Prove que podemos encontrar quatro números diferentes a, b, c e d em A tais que $a + b = c + d$.

Problema 21. *Uma pilha tem 40 pedras. A pilha é dividida em duas partes, depois uma das partes é dividida em duas novamente, etc., até termos 40 pedras separadas (40 pilhas formadas com uma pedra cada). Depois de cada divisão de uma das pilhas em duas menores, escrevemos o produto dos números de pedras nestas duas pilhas em um quadro. Mostre que, no final, a soma de todos os números no quadro será igual a 780.*

Problema 22. *A sequência de números inteiros x_n é definida por $x_1 = 4$, $x_2 = 6$ e, para $n \geq 3$, x_n é o menor número composto maior que $2x_{n-1} - x_{n-2}$. Encontre o valor de x_{2026} .*

Problema 23. *Em uma festa, existem 25 membros que satisfazem a seguinte condição: quando dois deles não se conhecem, então eles possuem algum amigo em comum. Sabemos que ninguém conhece todos na festa. Prove que a soma dos números de amigos de cada pessoa na festa é pelo menos 72.*

Problema 24. *Seja ABCD um quadrilátero inscritível e $P = BD \cap AC$. Os pés das perpendiculares de P aos lados AB e CD são X e Y. Se M e N são os pontos médios dos lados BC e AD, prove que $MN \perp XY$.*

Problema 25. *Uma máquina tem dois botões: um deles dobra um número inteiro e o outro aumenta ele em 1 unidade. Por exemplo, apertando os botões dessa máquina é possível realizar as seguintes operações:*

$$1 \rightarrow_{+1} 2 \rightarrow_{\times 2} 4 \rightarrow_{+1} 5.$$

Se no início você começa com o número 0, qual o número mínimo de vezes que você precisa apertar botões dessa máquina para obter:

a) 100?

b) 2024?